

Görsel Okuma ve Sözel Mantık.....	3
Test - 1.....	29
Test - 2.....	33
Cevap Anahtarı.....	38

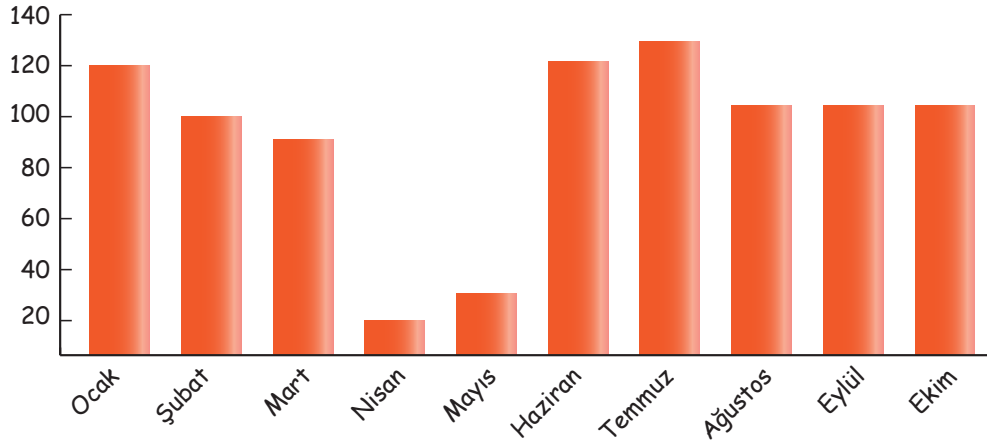
GÖRSEL OKUMA

Yazılı metinler dışında kalan fotoğraf, resim, afiş, karikatür, grafik, sembol vb. öğeleri yorumlama görsel okuma olarak adlandırılır. Görseller yazılı bir metnin daha iyi anlaşılmasını sağlayabileceği gibi bazen de bir konuyu yazılı metin olmadan tek başına anlatabilir. Görsel okumada şunlara dikkat edilmelidir:

- ✓ Görseldeki mekân ve varlıklar dikkatli bir şekilde incelenmelidir.
- ✓ Görselde yazı ve slogan kullanılmışsa okunmalıdır.
- ✓ Grafik varsa seçenekler üzerinden veriler değerlendirilmelidir.
- ✓ Grafik veya tablonun olduğu durumlarda başlığa odaklanılarak grafik ve tablonun konusu belirlenmelidir.
- ✓ Grafik veya tabloyu destekleyen, açıklayan ifadeler okunmalıdır.
- ✓ Grafik veya tablodaki işaretler, satırlar ve sütunlar anlamlandırılmalıdır.

**Dikkate Al**

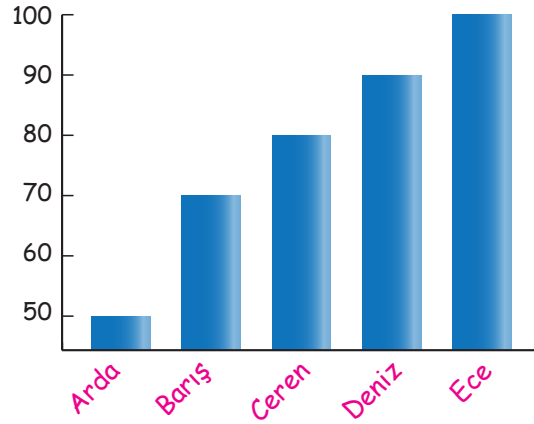
2020 Taşkömürü üretimi Aylara Göre Dağılımı (İlk 9 Ay)



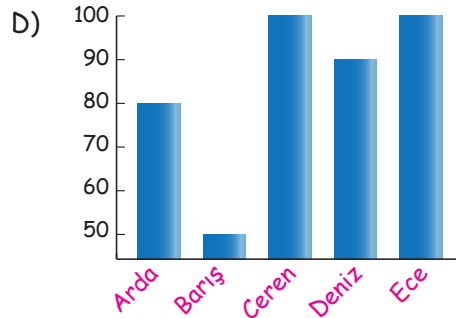
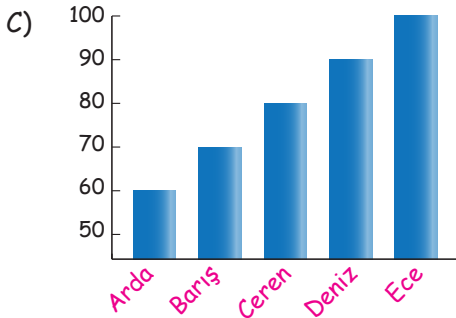
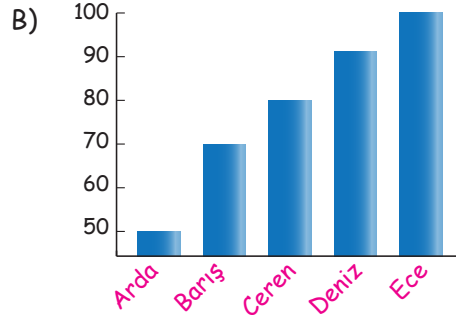
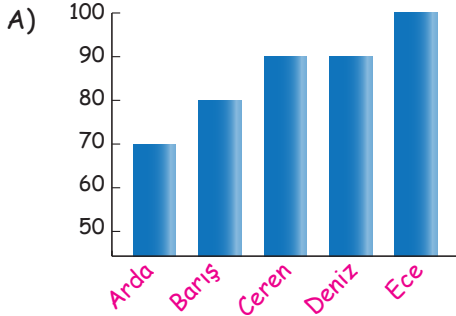
Yukarıdaki grafiğe bakarak yapabileceğimiz bazı çıkarımlar şunlardır:

- Üretimde düzenli bir artış ya da azalma görülmemektedir.
- Üretimin en az nisan ayında olmuştur.
- Üretimin en fazla olduğu ay temmuzdur.
- Üretimin aynı değerinde görüldüğü aylar, ağustos ve ekimdir.

Örnek Soru



- Verilen grafik, öğrencilerin Türkçe dersinin II. sınavından aldıkları sonuçları göstermektedir.
 - Arda birinci sınavına göre 30 puan düşürmüştür.
 - Barış ikinci sınavda 20 puan yükseltmiştir.
 - Ceren ikinci sınavda 20 puan düşürmüştür.
 - Hem Deniz'in hem de Ece'nin birinci ve ikinci sınavlarında herhangi bir değişiklik olmamıştır.
- Bu bilgilere göre Türkçe I. yazılı sınav sonuçlarını gösteren grafik aşağıdakilerden hangisi olabilir?**



Biz Çözdük

Yukarıdaki grafik II. yazılı sınav sonucudur. Öncüller dikkate alındığında I. yazılı sınav sonucu "D" seçeneğinde doğru verilmiştir.

Etkinlik 1


Portre; resim, fotoğraf, heykel ve benzeri sanat türlerinde bir kişinin yüzünün ve yüz ifadesinin betimlenmesi ile oluşturulan eserdir. Bu eserlerin amacı, kişinin görünüşünü, kişiliğini ve ruh hâlini yansıtmaktır. Bu sebeple fotoğrafçılıkta portreler enstantane olarak değil, belirli bir kompozisyon dahilinde kişinin poz vermesiyle çekilir. Portrelerde genelde, betimlenen kişi ressama ya da fotoğrafçıya doğru bakar ve bu sayede kişinin izleyiciye en başarılı şekilde aktarılması sağlanır.

Bu bilgiye göre, aşağıdaki görsellerden portre olarak belirlediklerinizi işaretleyiniz.

1.




2.




3.



4.




5.



6.



7.



8.



9.



10.



11.



12.



Örnek Soru

2021'in trafik cezaları belli oldu

Trafik cezaları, Hazine ve Maliye Bakanlığı Gelir İdaresi Başkanlığınca belirlenen yeniden değerlendirme oranına göre yeni yılda yüzde 9,11 zamlı uygulanacak



2021'DE EN DÜŞÜK CEZA

Taşıma sınırı üstünde yolcu alan sürücülere

113 LİRA

EN YÜKSEK CEZA

İşletme şartlarına uymayan araç muayene etmeyi üçüncü kez tekrarlayanlara

35 BİN 699 LİRA

144 LİRA

Emniyet kemeri takmayanlara

Park ve duraklama yasaklarına uymayanlara

Dönüş ve geçme kurallarına, kavşaklarda geçiş hakkına uymayanlara

İndirme ve bindirme kurallarına uymayanlara

Kask ve koruma gözlüğü kullanmayanlara

Trafik kurallarına uymayan yayalara

Araçlardan çöp atanlara

Araçlarda yüksek sesle müzik açanlara

2021'DE UYGULANACAK BAZI TRAFİK CEZA VE MİKTARLARI

1 339 LİRA

Yetkisi olmadığı halde aracında "çakar" tabir edilen ışıklı/sesli uyarı sistemlerini kullananlara

Alkollü araç kullananlara

Hız sınırlarını %50'den fazla aşan sürücülere

314 LİRA

Seyir halinde cep telefonu kullananlara

Kırmızı ışık ve şerit ihlali yapanlara

%30'a kadar hız sınırını aşanlara

Araç muayenesini yaptırmayanlara

122 LİRA

Araç tescil belgesini araçta bulundurmayanlara

Tescil plakasını monte edilmesi gereken yerin dışında bir yere takanlara

652 LİRA

Yaya veya okul geçitleri ile kavşak giriş ve çıkışlarında yayalara öncelik vermeyenlere

6 BİN 700 LİRA

Drift/spin atanlara

2 BİN 698 LİRA

Ehliyetsiz araç kullananlara

288 LİRA

Engellilere ait alanlara park edenlere

446 LİRA

Yetkisiz taşımacılık yapan araçlardan taşımacılık hizmeti alanlara

835 LİRA

Kıs lastiği kullanma zorunluluğu bulunduğu halde bu kurala uymayanlara

6 BİN 909 LİRA

Uyuturucu veya uyarıcı madde alarak araç kullanan kişiler

31.12.2020



Bu metinden hareketle aşağıdaki bilgilerden hangilerine kesinlikle ulaşılabilir? İşaretleyiniz.

a. En düşük ve en yüksek cezaya	
b. Ehliyetsiz araç kullananların sayısına	
c. Kırmızı ışık ve şerit ihlali yapanların alacağı cezaya	
d. Hız sınırlarını %50'den fazla aşan sürücülerin cezası ile muayenesini yaptırmayanların alacakları ceza farkına	
e. Türkiye'de en fazla ihlal edilen kurala	
f. Cezaların bir önceki yıldan farklı olduğuna	

Biz Çözdük

a - c - d - f

Örnek Soru

Ankara Devlet Resim ve Heykel Müzesi yeniden ziyarete açılıyor

Türk sanat tarihinin en değerli eserlerine ev sahipliği yapan Ankara Devlet Resim ve Heykel Müzesi, 28 Aralık'ta yeniden ziyarete açılacak

ANKARA DEVLET RESİM VE HEYKEL MÜZESİ

- Müze binası, 1927-1930 arasında "Türk Ocakları Genel Merkezi" olarak inşa edildi.
- Yinci Ulusal Mimarlık Dönemi'nin en görkemli yapılarından.
- Binanın özgün detayları, geleneksel restorasyon teknikleriyle korundu.
- 1927'de Atatürk'ün Gençliğe Hitabesi ilk kez bu binada okundu.
- 1933'te ilk Türk Dil Kurultayı Atatürk'ün başkanlığında bu binada yapıldı.
- Konser salonunda ilk Türk Operası "Özsoy" 1934'te ilk kez sahneye konuldu.
- Restorasyon çalışmaları Aralık 2019'da başladı, 28 Aralık 2020'de yeniden ziyarete açılacak.



Görsel sanatlar alanında Türk sanat tarihinin son 150 yıllık serüvenini muhafaza ediyor.



Envanterindeki 3 bin 629 adet eser ile, Türk resim sanatının en önemli koleksiyonlarından birini barındırıyor.



Müzenin teşhiri de yenilendi.



Müzedeki eserler, ileri teknolojiye sahip, yanmaz özellikli, yeni nesil akıllı depo sistemi ile korumaya alındı.



Sanatseverler, "www.arhm.ktb.gov.tr" sitesinden müze ve koleksiyona ilişkin ayrıntılı bilgilere ulaşabilecek, etkinlikleri yakından takip edebilecek.



Müze, 400 kişilik görkemli konser salonunda sanatseverlerin takip edeceği programlara ev sahipliği yapacak.



Müzenin, etkin ve aktif şekilde kültür-sanat merkezi olarak kullanılması planlanıyor.

28.12.2020



Bu görselden hareketle,

- Müzenin ilk inşa edildiği yıla
 - Müzenin restorasyon çalışmalarına başladığı tarihe
 - Müzenin etkin ve aktif bir şekilde kültür-sanat merkezi olarak kullanıldığına
 - Müzenin inşa edildiği tarihten bu yana mimarisine dokunulmadığına
- bilgilerinden hangilerine ulaşılabilir?

A) I ve II

B) I ve III

C) II ve III

D) II ve IV

Sen Çöz 1

Etkinlik 2

Türk Mitolojisi

arkeofili

Credit: Çağatay Çeliktas

Gökyüzü kültleri

Türk Mitolojisinde Güneş, Ay ve yıldız Gök Tanrı'ya bağlı kültlerdir. Eski Türklerin bu kültlere çok saygı gösterdiğine dair kayıtlar, Çin yazılı kaynaklarında bulunmaktadır.

Mergen

Her şeyi bilen, akil tanrıdır. Göğün 7. katında oturur ve sahip olduğu bilgiler medeniyetler her şeye gücü yettiğine inanılır.

Gök Tanrı/ Ülgen

Gök Tanrı, kozmik düzenin veya evrenin olduğu kadar siyasal ve toplumsal düzeninde tanrıydı. Tanrı Ülgen ise bazı kaynaklara göre Gök Tanrı kültürünün bozulmuş bir hali olarak kabul edilmiş bazı kaynaklara göre ise Gök Tanrıdan daha eski bir tanrısal figür olduğu kabul görmüştür.

Yeryüzü kültleri

Eski Türkler tabiatta birtakım gizli güçlerin varlığına inanıyorlardı. Dağ, tepe kaya, pınar, su kaynağı, ağaç, orman, ocak, göl gibi kavramların canlı ve bir ruha sahip olduklarını düşünürlerdi.

Kızagan

Savaş tanrısıdır. Oldukça kuvvetli olduğuna inanılır. Ordu yönetimi konusunda uzmandır. Kültü askeler arasında yaygındır. Genel inansa göre Ülgenin oğlu olduğu sanılmaktadır.

Umay Ana

Doğum, bereket, savaş ve ölüm tanrıçasıdır. İyiği temsil eder ve doğacak olan çocukları korur. Yaşam ağacının sahibi olarak tanımlanır ve yeryüzüne bereket sağladığına inanılır.

Asena

En tanınmış mitolojik karakterden Asena veya Asena, Gök Tanrı ile ilişkili kutsal bir dişi kart sembolüdür. Türklerin soylarını bu dişi kurtta dayandığına pek çok tarihçi miti bulunmaktadır.

Hayat Ağacı

Eski Türklerin yaradılış efsanelerinde sık sık yer alan bu motif yaşamı, ebediyeti, canlılığı ve tükenmez bereketi simgelemektedir.

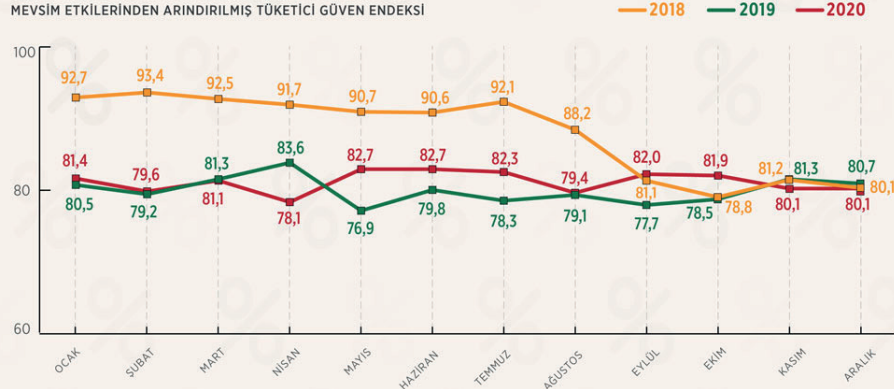
Bu görselde verilen bilgilerden hareketle aşağıdakilerden hangilerine ulaşılabilir? İşaretleyiniz.

- | | |
|--|--|
| a. Kızagan, ordu yönetimi konusunda uzmandır. | |
| b. Umay Ana, kozmik düzenin veya evrenin olduğu kadar siyasal ve toplumsal düzeninde tanrıdır. | |
| c. Ülgen'e evreni yaratma emrini vermiş ve tekrar sulara dönen Ak Ana'dır. | |
| d. Yaşamı, ebediyeti, canlılığı ve tükenmez bereketi simgeleyen Hayat Ağacı'dır. | |
| e. Doğum, bereket, savaş ve ölüm tanrıçası Umay Ana'dır. | |
| f. Yer altı dünyasının hükümdarı, çok güçlü ve korkunç bir ihtiyardır Erlik. | |

Örnek Soru

Tüketici güven endeksi aralık ayında değişmedi

Mevsim etkilerinden arındırılmış tüketici güven endeksi, aralıkta önceki aya göre değişim göstermeyerek 80,1 değerini korudu.



* 0-200 aralığında değer alabilen endeksin 100'den büyük olması tüketici güveninde iyimser durumu, 100'den küçük olması tüketici güveninde kötümser durumu gösteriyor

21.12.2020

KAYNAK: TÜİK



Bu bilgilere göre,

- I. 2020'nin ilk altı ay oranı 2018'e göre daha düşüktür.
- II. 2019' da en düşük oran nisan ayına aittir.
- III. 2020 Kasım ve Aralık ayının değerleri birbirine eşittir.
- IV. 2019'da her ay düzenli bir artış görülmüştür.

yargılardan hangilerine ulaşamaz?

A) I ve II

B) I ve III

C) II ve III

D) II ve IV

Sen Çöz 2

Örnek Soru

NBA'de yeni sezon başlıyor

Kovid-19 nedeniyle normal sezon formatında değişiklikler yapılan Amerikan Basketbol Ligi (NBA) 2020-21 sezonu, 23 Aralık Çarşamba günü sabaha karşı başlayacak

72 MAÇ



NBA'nın 2020-21 normal sezonunda, 82 yerine 72 maç oynanacak

NBA'IN "EN"LERİ

- GOLDEN STATE WARRIORS**
EN FAZLA GALİBİYET:
(2015-16) - 73
- PHILADELPHIA 76ERS**
EN FAZLA MAĞLUBİYET:
(1972-73) - 73
- CHARLOTTE BOBCATS**
EN KÖTÜ GALİBİYET YÜZDESİ:
7-59 (YÜZDE 10,6)
(2011-12)
- GOLDEN STATE WARRIORS**
EN İYİ GALİBİYET YÜZDESİ:
73-9 (YÜZDE 89)
(2015-16)
- 370**
EN FAZLA SAYI ATILAN MAÇ
D.PISTONS: 186
D.NUGGETS: 184
(1983)
- 119**
EN AZ SAYI ATILAN MAÇ:
M.HAWKS: 57
B.CELTICS: 62
(1955)

Milwaukee Bucks
Ersan İlyasova'yı serbest bıraktı

CEDİ OSMAN ve FURKAN KORKMAZ
NBA'deki 4. yıllarına başlayacak



21.12.2020

Bu görselden hareketle,

- NBA'nın 2020-2021 sezonunda maç sayısı geçmiş yıllara göre daha azdır.
 - Cedi Osman ve Furkan Korkmaz, NBA'de dört yıl daha oynayacak oyunculardır.
 - En iyi galibiyet yüzdesi 2015-2016 yılları arasında Golden State Warriors olarak belirlenmiştir.
 - En az sayı atılan maçtan yirmi sekiz yıl sonra en fazla sayı atılan maç oynanmıştır.
- bilgilerden kaç tanesi yanlıştır?

A) 1

B) 2

C) 3

D) 4

Sen Çöz 3



Örnek Soru

Hint inciri (*Opuntia ficus-indica*), kaktüsogiller (*Cactaceae*) familyasında sınıflanan *Opuntia* cinsinin tipik türüdür. Türkçede bu kaktüs türü için frenk inciri, frenk yemişi, dikenli incir ya da halk ağzında kaynadili adları da kullanılır.

5-10 cm uzunluğunda, kırmızı, sarı, turuncu renklerde kabuğu olan etli bir meyvedir.

Üzerinde çok sayıda diken bulunur. İçinde tohumları bulunur. Tatlı ve suludur. Yenilebilir. Ancak, yerken kabuk kısmı soyulup çıkarılır. Akdeniz'de doğal olarak yetişir. Türkiye'de Batı ve Güney Anadolu'da bulunur.

Aşağıdakilerden hangisi bu bitkinin görseli olabilir?

A)



B)



C)



D)




Biz Çözdük

Meyveli bir türden bahsedildiği için görsellerden en uygunu B'dir.

Cevap: B



Örnek Soru



Eski fotoğraflara bakılarak dönemin bazı özellikleri hakkında bilgi sahibi olunabilir.

Bu görsele bakıldığında o dönemle ilgili aşağıdakilerden hangisi hakkında bilgi edinilemez?

A) Halkın kıyafetleri ve giyim tarzları

B) Mimari yapıların dış özellikleri

C) Toplumun temel geçim kaynakları

D) Denizi ve deniz araçları




Sen Çöz 4

Örnek Soru

Göz yanılması denilince akla genellikle halüsinasyon gelir. Hâlbuki göz yanılması çok başkadır. Göz bozukluğu, ilaç kullanımı ya da çeşitli hastalıkların getirisi değildir. Göz yanılması; gözümüzle algıladığımız görsellerin aslında gerçekte uyuşmaması durumudur. Daha çok sanal ortamda sıklıkla karşılaşabildiğimiz gözü aldatan görüntüler, hileden başka bir şey değildir. Birçok kişi bu hileli görüntüleri sanki gözlerinden kaynaklanan bir bozuklukmuş gibi hissedip, elleriyle gözlerini ovalayıp tekrar bakarlar lakin durum gözle değil algılamadaki yanıltma ile alakalıdır.

I.



II.



III.



IV.



Numaralanmış görsellerden hangisi göz yanılmasına örnek olamaz?

A) I

B) II

C) III

D) IV

Sen Çöz 5

Örnek Soru

Aynı kavram alanı, varlıklar için bir ortaklık gerektirir. Ortak ya da benzer işler için kullanıldıklarında veya bulduklarında onlar için "aynı kavram alanı"ndan söz edilebilir.

I.



II.



III.



IV.



Yukarıdaki görsellerden hangisi aynı kavram alanına girmez?

A) I

B) II

C) III

D) IV

Sen Çöz 6

Örnek Soru

TÜRKİYE'NİN KÜRESEL ÇAPTA YARDIMLARI



<p>İSPANYA VE İTALYA 1 Nisan: Yerli ve milli imkanlarla üretilen maske, tulum, yüz maskesi, göz maskesi ve dezenfektan içeren tıbbi malzemeler İspanya ve İtalya'ya ulaştırıldı.</p>	<p>KKTC 20 Mart: Acil ihtiyaçlar için ilk etapta 72 milyon liralık finansal kaynak gönderildi.</p>
<p>ÇİN 31 Ocak: A400M kargo uçağıyla Çin'e maske ve tıbbi elbise gönderildi. 12 Şubat: 200 bin koruyucu maske, koruyucu gözlük, dezenfektan ve eldivenin bulunduğu insani ve tıbbi yardım malzemesi ile medikal ekipman ulaştırıldı.</p>	<p>BULGARİSTAN 11 Mart: 50 bin maske, 100 bin koruyucu tulum ve 100 bin gözlük bulunan ilk tıbbi koruyucu ürünler Svilengrad şehrine gönderildi.</p>
<p>İRAK 19 Mart: Türk Kızılay 30 bin maske ve 475 koli gıda yardımında bulundu.</p>	<p>TUNUS 11 Nisan: TİKA Tunus'taki pandemi hastanesine ekipman desteği sağladı ve hastanede ihtiyaç duyulan tıbbi görüntüleme sistemini temin etti.</p>
<p>SİRBİSTAN, BOSNA HERSEK, KARADAĞ VE KUZEY MAKEDONYA 8 Nisan: Test kiti, tulum ve maske yardımı yapıldı. 10 Nisan: TİKA, Kuzey Makedonya'da 2 bin 500 yardım paketi dağıtımına başladı.</p>	<p>LİBYA 10 Nisan: Libya halkına ve bölgede görev yapan eğitim iş birliği ve danışma timlerine sağlık malzemeleri gönderildi.</p>
<p>İRAN 17 Mart: 1.000 tanı kiti, 4 bin 715 tulum, 20 bin önlük, 2 bin 4 gözlük, 4 bin N95 maske ve 78 bin üç katlı maske gönderildi. 30 Mart: 10 ton tıbbi ve insani yardım malzemesi gönderildi.</p>	<p>AZERBAYCAN 6 Nisan: Türkiye'den getirilen cihazlarla kurulan tıbbi maske fabrikasında maske üretimi başladı.</p>
	<p>MACARİSTAN 27 Mart: 8 ton tekstilin Macaristan'a ihracatına izin verildi ve tıbbi yardım ulaştırıldı.</p>
	<p>İNGİLTERE 10 Nisan: Sağlık Bakanlığınca hazırlanan maske, N95 maske ve tulumdan oluşan yardım malzemesi ulaştırıldı. 20 Nisan: 84 tonluk kişisel koruyucu ekipman gönderildi.</p>

Bu görselden hareketle,

- I. Tıbbi malzemeler İtalya ve İspanya'ya aynı gün ulaştırılmıştır.
- II. Finansal destek alan sadece KKTC'dir.
- III. Tika Tunus'ta pandemi hastanesinin kurulmasında destek olmuştur.
- IV. Sağlık Bakanlığınca hazırlanan maske N95'ten tüm ülkelere gönderilmiştir.

bilgilerden hangilerine ulaşamaz?

A) I ve II.

B) I ve III.

C) II ve III.

D) III ve IV.

Sen Çöz 7

Örnek Soru

DÜNYADA VE TÜRKİYE'DE
BALIKÇILIK SEKTÖRÜ

DÜNYADA SU ÜRÜNLERİ

- Dünyada her yıl **170 milyon ton su ürünü** üretiliyor.
- **2030**'da toplam üretimin **200 milyon tona** ulaşması bekleniyor.
- Sektör dünyada **60 milyon kişinin** doğrudan istihdam kaynağı.
- **Su ürünleri** ve **balıkçılığın** dünya ticaretindeki yıllık değeri **143 milyar dolar**.

TÜRKİYE'DE SU ÜRÜNLERİ

- Dünyada olduğu gibi ülkemizde de **denizlerde avcılık üretimi azalırken, yetiştiricilik artmaktadır**.
- **2018** yılında, **314 bin tonu avcılık, 314 bin tonu yetiştiricilik** olmak üzere toplam **628 bin ton su ürünleri** üretimi gerçekleştirilmiştir.
- Bu üretimin finansal karşılığı yaklaşık **7,5 milyar TL**'dir.
- **2000**'li yıllarda en yüksek yıllık üretim **2007** yılında **772 bin ton** olarak gerçekleşmiştir.

NE YAPILMALI?

- **Nitelikli işgücü** ve gençlere yönelik **mesleki eğitimler** artırılmalı
- Alana ilişkin **akademik çalışmalar** teşvik edilmeli
- **Yetiştiricilik** ve **avlanma** yöntemleri güçlendirilerek **verimlilik** artırılmalı
- **Kaçak** ve **bilinçsiz avlanma** ile mücadele kararlılıkla sürdürülmeli
- Zengin üretim **uluslararası ürünlere** dönüştürülerek marka değeri yükseltilmeli
- Yıllık üretim **1 milyon tonun** üzerine çıkartılarak en önemli üretici ülkelerden biri olunmalı
- Balık tüketimini **teşvik edecek** çalışmalar yapılmalı

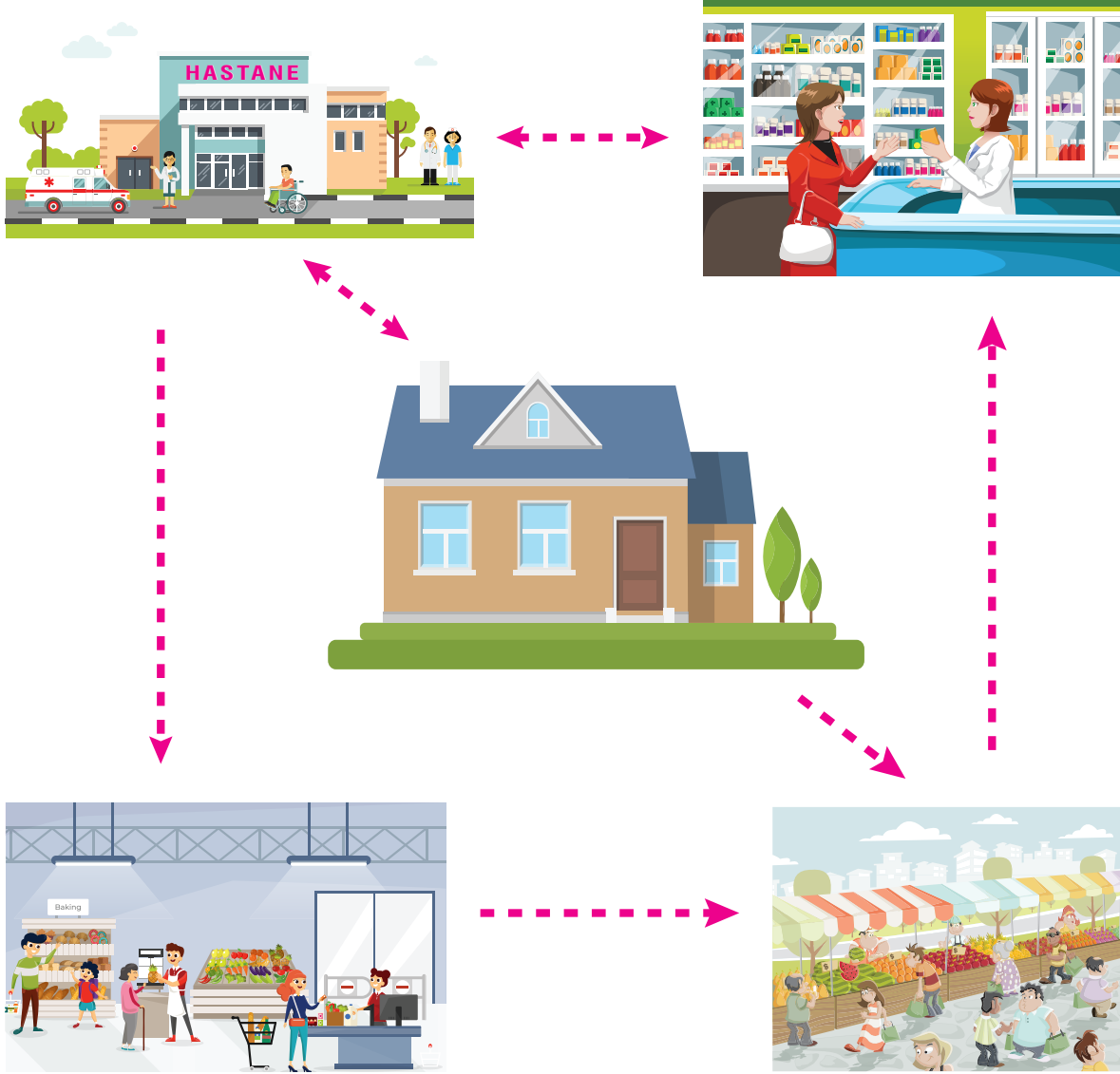


Bu görselden hareketle aşağıdaki bilgilerden hangisine ulaşılabılır?

- A) Dünyada her yıl 200 milyon ton su ürünü üretilmektedir.
- B) Denizlerde avcılık üretimi dünyada azalırken ülkemizde artmaktadır.
- C) Türkiye'de yıllık üretim 1 milyon tonun üzerine çıkartılarak en önemli üretici ülkelerden biri hâline gelmiştir.
- D) Türkiye'de en yüksek yıllık üretim 2007 yılında gerçekleşmiştir.

Sen Çöz 8

Örnek Soru



Yukarıdaki şekilde Nurten Hanım'ın evine yakın olan yerler verilmiştir. Yerler arasındaki oklar ise Nurten Hanım'ın arabasıyla gideceği yolun yönünü gösterir.

(gidiş geliş) ⇔

(sadece tek yönlü gidiş) ⇒

Bu bilgilere göre Nurten Hanım pazardan eve gelirken kaç yol geçmiştir?

A) 1

B) 2

C) 3

D) 4

Sen Çöz 9



Örnek Soru

Fuat, Mert, Mustafa, Sercan ve Tarık adlı beş arkadaş pastaneye gitmiştir. Pastanede sütlü tatlılardan sadece kazandibi, sütlaç, muhallebi ve fincan tatlısı vardır. Bu kişilerin verdiği tatlı siparişleriyle ilgili şunlar bilinmektedir:

- İki kişi aynı tatlıdan sipariş verirken diğer iki kişi bir tatlıyı birlikte yemiştir.
- Sercan'la Mert farklı tatlıları istemiştir.
- Tarık'la Mustafa aynı tatlıyı istemiştir.
- Fuat ile Sercan farklı tatlıları istemiştir.

Yukarıdaki bilgilere göre hangisi kesinlikle doğrudur?

- A) Fuat ile Mert aynı siparişi vermiştir.
- B) Mustafa, kazandibi istemiştir.
- C) Tarık'la Sercan aynı siparişi vermiştir.
- D) Fincan tatlısını kimse sipariş vermemiştir.



Biz Çözdük

Tarık ve Mustafa aynı tatlıyı yemiştir. Sercan; Mert ve Fuat'tan farklı tatlı yediğine göre Fuat ve Mert aynı siparişi vermiş olur.

Cevap: A



Örnek Soru



Gülây, Hakan, Suphi ve Yeliz adlı komşuların mavi, beyaz, kırmızı ve siyah renkteki araçlarıyla ilgili şunlar bilinmektedir:

- Siyah araç bir erkeğe ait değildir.
- Yeliz'in aracı beyaz ya da kırmızı renktedir.
- Gülây'ın aracı mavi değildir.

Yukarıdaki bilgilere göre Hakan'ın aracının kırmızı renkte olduğu biliniyorsa Suphi'nin aracı hangi renktir?

- A) Siyah
- B) Mavi
- C) Kırmızı
- D) Beyaz



Sen Çöz 10

Örnek Soru

Yapılan gözlemler sonucunda Neptün, Venüs, Jüpiter, Satürn, Plüton, Mars gezegenleriyle ilgili olarak elde edilen bilgiler aşağıdaki tabloda gezegenler numaralandırılarak verilmiştir.

Gezegenler	Güneşe ortalama Uzaklığı (milyon km)	Ortalama Sıcaklık	Çapı (km)	Güneş etrafında dönüşü	Uydu Sayısı
1. Gezegen	108,2	480	12,010	255 gün	Yok
2. Gezegen	778,3	-130	142,800	11,86 Yıl	12
3. Gezegen	227,9	-50	6,787	687 Gün	2
4. Gezegen	1,427	-185	120,600	29,46 Yıl	22
5. Gezegen	4,497	-200	49,100	165 Yıl	2
6. Gezegen	5,900	-230	2,300	248 Yıl	1

Bu gezegenlerle ilgili şunlar bilinmektedir:

- En sıcak gezegen Venüs'tür.
- Güneş etrafında dönüşü en fazla olan gezegen Satürn'dür.
- Mars ve Neptün'ün uydu sayıları birbirine eşittir.
- Uydu sayısı fazla olan ikinci gezegen Jüpiter'dir.

Verilen bilgilere göre Plüton kaçınıcı gezegendir?

- A) 1. Gezegen B) 2. Gezegen C) 5. Gezegen D) 6. Gezegen

Sen Çöz 11

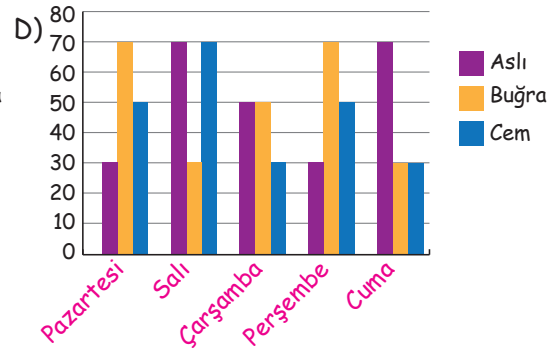
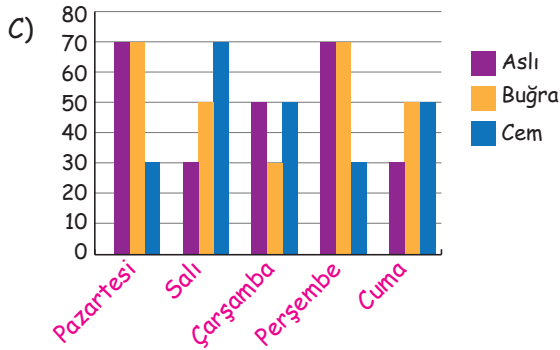
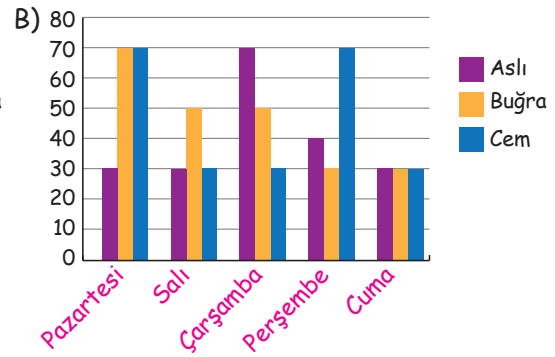
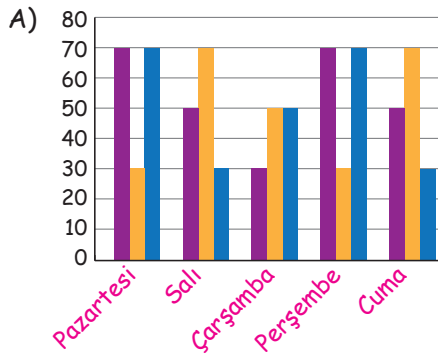


Örnek Soru

Meltem Öğretmen öğrencilerinin Türkçe dersinde daha başarılı olabilmeleri için beş günlük soru çözüm programı hazırlamıştır. Üç öğrencinin haftalık programındaki soru dağılımı şu şekildedir:

- Aslı** : Pazartesi ve perşembe günleri 70 soru, salı ve cuma günü 50 soru, çarşamba günü ise 30 soru çözecektir.
- Buğra** : Pazartesi ve perşembe 30 soru, salı ve cuma günleri 70 soru, çarşamba günü ise 50 soru çözecektir.
- Cem** : Pazartesi ve perşembe 70 soru, salı ve cuma 30 soru, çarşamba günü ise 50 soru çözecektir.

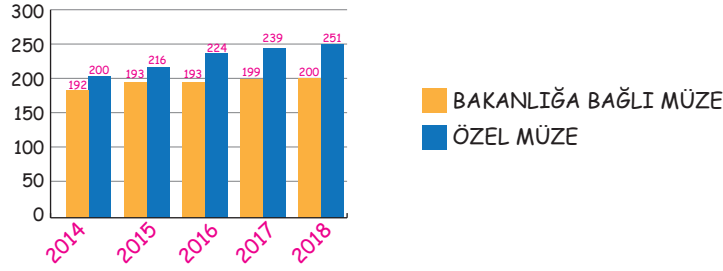
Bu bilgilere göre aşağıdakilerden hangisi öğrencilerin beş günlük soru çözüm grafiğidir?



Sen Çöz 12

Örnek Soru

TÜRKİYE GENELİNDE MÜZE SAYISI



Bu grafiklerden hareketle aşağıdakilerden hangisine ulaşamaz?

- A) Özel müze sayısının her yıl arttığına
- B) Bakanlığa bağlı müzede art arda iki yıl değişimin olmadığına
- C) Özel müzelere her yıl yoğun ilgi gösterildiğine
- D) Bakanlığa bağlı müze sayısının en fazla 2018'de görüldüğüne

Sen Çöz 13

Örnek Soru

Aziz, Can, Elif, Fatma, Mustafa, Nurten ve Sevim göz doktoruna muayene olacaktır. Bunların sıraları ile ilgili şunlar bilinmektedir:

- Elif, Aziz'den hemen sonra Mustafa'dan hemen önce muayene olmuştur.
- Can'dan sonra iki kişi daha muayene olmuştur.
- Nurten'in önünde ve arkasında eşit sayıda hasta vardır.
- Elif ve Fatma arasında 3 kişi vardır.

Bu bilgilere göre aşağıdakilerden hangisi en son muayene olmuştur?

- A) Nurten
- B) Mustafa
- C) Sevim
- D) Nurten

Sen Çöz 14



Örnek Soru



Bir markette A, B, C, D ve E markalı deterjanlar aşağıdan yukarıya doğru beş rafta yerleştirilmiştir.

Bununla ilgili aşağıdaki bilgiler verilmiştir:

- Her rafta yalnızca bir markaya ait deterjan bulunmaktadır.
- C markalı deterjanlar 2. raftadır.
- B markalı deterjanlar, D markalı deterjanların bulunduğu rafın bir üst rafındadır.
- A markalı deterjanlar, E markalı deterjanların bulunduğu rafın üstünde yer alan raflardan birindedir.

Verilenlere göre aşağıdakilerden hangisi kesinlikle doğrudur?

- A) B markalı deterjanlar, 3.raftadır.
- B) D markalı deterjanlar, 4. raftadır.
- C) E markalı deterjanlar, 1. raftadır.
- D) A markalı deterjanlar, D markalı deterjanların bulunduğu rafın bir alt rafındadır.



Biz Çözdük

5	A
4	B
3	D
2	C
1	E

Bu tabloda kesin olan tek bilgi E markanın en alt rafta olduğudur. Diğerleri tahminen yerleştirildiğinde bu sonuç çıkar.


Cevap: C

Örnek Soru



Eserde altın sarısı bir atlas kumaşının önünde genç bir kadın durmaktadır. Kadın, o dönemde İstanbul'da hakim olan Paris modasına uygun ama aynı zamanda Osmanlı kadınının giyim tarzına uygun bir kıyafet giymiştir.

Alımlı kumral genç kadın, yüzünü yarı saydam bir peçe ile gizlemektedir. Ayrıca kadının sol eli de siyah elbisenin içinde gizlenmiştir. Klasik Osmanlı ve Selçuklu halılarına özgü geometrik motifler, eserde belirgin bir şekilde çizilmiştir



İki genç Osmanlı kadını geleneksel Türk müzik aletleri çalarken resimlenmiştir. Tabloda Bursa Yeşil Camii'deki namazgâh bölümünün girişinde tambur ve def çalan iki genç kız resmedilmiştir. Tambur çalan kız ayakta durmakta, def çalan ise oturmaktadır.



Eserde 9 kadın bir cami avlusunun dış tarafında iki ayrı grup hâlinde gezinti yapmaktadır. Giysileri, dönemin Avrupa'sının giyim modasını andırır. Kadınlar, güneşten korunmak amacıyla şemsiye kullanır. Bu durum, yaz mevsimi olduğunun göstergesidir.



Tabloda Batılı tarzda giyinmiş pembe bir başlık ve başlık ile yakın tonda bir elbise giyen kız çocuğu açık bir alanda ayakta durmaktadır.



"Halı Satıcısı", "Doğu-Batı karşıtlığı" konusuna bir örnek teşkil eder. Kolonyal şapkalı, bir sete oturmuş Avrupalı ile sarıklı, yere oturmuş Osmanlı satıcısı karşı karşıya resmedilmişlerdir.

Yukarıda Osmanlı ressamlarından Osman Hamdi Bey'in tabloları hakkında bilgiler verilmektedir. Eserlerin oluşturulma dönemleriyle ilgili bilinenler şunlardır:

- "Gezintide Kadınlar" tablosunu yaptığında iki eseri daha bulunmaktadır.
- Halı Satıcısı tablosundan önce ve sonra tablosu bulunmaktadır.
- İki Müzisyen'den hemen sonra İstanbul Hanımefendisi tablosu yapılmıştır.

Bu bilgilere göre ressamın "Pembe Başlıklı Kız" eseri kaçınıcı tablosudur?

A) 1

B) 3

C) 4

D) 5

Biz Çözdük

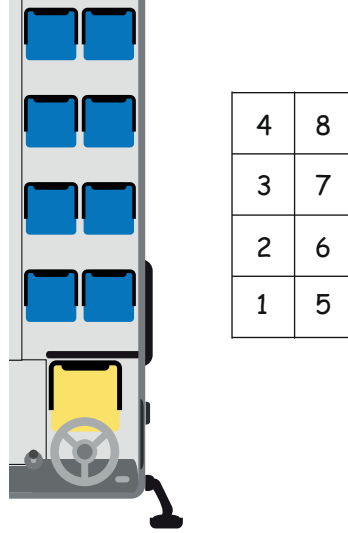
1	2	3	4	5
İki Müzisyen	İstanbul Hanımefendi	Gezintide Kadınlar	Halı Satıcısı	Pembe Başlıklı kız

Cevap: D



Örnek Soru

Aylin, Beril, Cengiz, Doruk, Emel, Fırat, Gülay ve Harun adlı arkadaşlar Bartın'a otobüs bileti almışlardır. Kişilerin oturdukları koltukların düzeni aşağıda verilmiştir.



Kişilerin oturdukları koltukların düzeni hakkında aşağıdaki bilgiler verilmiştir:

- Gülay, öndeki iki koltuktan birinde oturmaktadır.
- Beril, 6 numaralı koltukta oturmaktadır.
- Aylin, Doruk'un; Emel de Cengiz'in hemen arkasındaki koltukta oturmaktadır.
- Harun, Doruk'un yanındaki koltukta oturmaktadır.

Aşağıdakilerden hangisi kesinlikle doğrudur?

- A) Fırat, Aylin'in yanındaki koltukta oturmaktadır.
- B) Harun, Beril'in hemen arkasındaki koltukta oturmaktadır.
- C) Fırat, Gülay'ın hemen arkasındaki koltukta oturmaktadır.
- D) Aylin, Beril'in yanındaki koltukta oturmaktadır.



Biz Çözdük

Arka	
4	8
Fırat	Aylin
3	7
Harun	Doruk
2	6
Emel	Beril
1	5
Cengiz	Gülay

Ön

Cevap: A

Örnek Soru

Bir oyuncak mağazasında alt alta ikişer, yan yana üçer olacak şekilde altı raf vardır. Raflarda araba, uçak, bebek, yap boz, top ve lego bulunmaktadır.

- Her rafta tek bir çeşit oyuncak vardır.
- Gün içinde bir çeşit oyuncak tükenmiştir.
- Topun altında uçak vardır.
- Bebeğin üstündeki legonun solundaki oyuncak tükenmiştir.
- Top ile araba aynı hizada değildir.
- Topun sağında yapboz vardır.



Buna göre hangi oyuncak tükenmiştir?

A) Bebek

B) Lego

C) Yapboz

D) Uçak

Biz Çözdük

Top	Yapboz	Lego
Uçak	Araba	Bebek

Cevap: D

Etkinlik 3

Alper, Bahadır, Cemil, Deniz, Erkan ve Fuat'ın doğum tarihleriyle ilgili bilinenler şunlardır:

- Erkan, Alper'den önce; Deniz'den sonra doğmuştur.
- En yaşlıları Bahadır'dır.
- Cemil, Erkan'dan sonra; Fuat'tan önce doğmuştur.

Bu bilgilere göre kardeşlerin sıralamasını bulunuz.

Örnek Soru

Bir basketbol yarışmasına Emir, Enes, Yağız, Yasin, Samet, Serkan ve Ayhan adlı öğrenciler katılmıştır.

Bu yarışmadaki sıralamayla ilgili şunlar bilinmektedir:

- Yarışmada birinci olan ne Yağız ne de Samet'tir.
- Yarışmayı Ayhan'dan hemen sonra bitiren Yasin'dir.
- Yasin, yarışmayı 5. sırada tamamlamıştır.
- Emir ile Yasin arasında yarışmayı 2 kişi tamamlamıştır.

Bu bilgilere göre yarışmayı Samet ile Serkan art arda bitirmişse Enes yarışmayı kaçınıcı sırada bitirmiştir?

- A) 1 B) 3 C) 4 D) 6

Biz Çözdük

1.	2.	3.	4.	5.	6.	7.
Enes	Emir	Yağız	Ayhan	Yasin	Samet	Serkan

Cevap: A

Örnek 1



Bir iş hanında 4 kat ve sekiz daire bulunmaktadır.

Burada "bakkal, kuaför, bujiteri, muhasebeci, noter, avukatlık bürosu, saatçi" vardır.

- Bu dairelerden bir tanesi boştur.
- Kuaför ikinci kattadır.
- Noter altıncı kattadır ve yanı boştur.
- Bakkal ve bujiteri aynı katta yer almaktadır.
- Kuaförün sağ alt çaprazındaki saatçi bulunmaktadır.
- Muhasebeci bürosunun altında dükkan yoktur.

Bu bilgilere göre 1. katta hangi dükkanlar vardır?

- A) Avukat / Saatçi B) Bujiteri / Bakkal C) Noter / Saatçi D) Muhasebeci / Saatçi

Sen Çöz 15

Örnek Soru

Kaan, Lale, Mine, Nil ve Onur adlı kişiler macera ve komedi filmlerine gitmiştir. Bu kişilerin gittikleri filmlerle ilgili şunlar bilinmektedir.

- Her bir kişi sadece bir filme gitmiştir.
- Üç kişi macera filmine gitmiştir.
- Lale ve Onur'un gittiği filmler farklıdır.
- Mine ve Nil aynı filme gitmiştir.



Buna göre aşağıdakilerden hangisi kesinlikle komedi filmine gitmiştir?

- A) Onur B) Mine C) Kaan D) Lale

Biz Çözdük

1	2	3
Mine	Nil	Onur / Lale

Cevap: C

Örnek Soru

o	k	ş	c	o
N	İ	S	A	N
m	h	r	y	m

Bu tabloda her sütündeki harfler aşağıdan yukarıya doğru, harflerin alfabetik sırası (...PRŞŞ-TUÜVYZABC...) göz önünde bulundurularak belli bir harf atlama düzenine göre dizilmiş ve orta kısımda "NİSAN" sözcüğü oluşmuştur.

Bu harf atlama düzenine göre "BARIŞ" sözcüğü aşağıdaki tabloların hangisinde gizlenmiştir?

A)

c	c	s	j	t
a	y	p	ğ	s

B)

z	d	g	n	z
y	c	e	k	ü

C)

t	a	ş	y	c
v	y	o	t	z

D)

c	b	y	k	ş
a	z	p	h	p

Biz Çözdük

Alfabetik sıra izlendiğinde A seçeneğinde "BARIŞ" sözcüğü bulunur.

Cevap: A

Örnek Soru

Aylin, Burak, Cemre, Derin, Ege, Fırat, Gül ve Hakan Gaziantep yöresine ait bir lokantada; Kazan Kebabı, Alinazik, Sarımsak Kebabı, Kıymalı Kebap yemişlerdir.

Bu kişilerin neler yedikleri ile ilgili bilgiler aşağıda verilmiştir.

- Her yemekten iki kişi yemiştir.
- Gül Sarımsak Kebabı yemiştir.
- Aylin ve Ege aynı yemekten yemiştir.
- Burak ve Hakan farklı yemekler yemiştir.
- Kıymalı Kebap yiyenler kadındır.

Verilen bilgilere göre aşağıdakilerden hangisi kesinlikle yanlıştır?

- A) Aylin ve Ege Kazan kebabı yemiştir.
B) Kıymalı Kebap yiyenler Cemre ve Derin'dir.
C) Sarımsak kebabı yiyenler Gül ve Hakan'dır.
D) Alinazik yiyenlerden biri Fırat'tır

Biz Çözdük

Kaşan Kebabı	Alinazik	Sarımsak Kebabı	Kıymalı Kebap
Ege Aylin	Burak Fırat	Gül Hakan / Burak	Derin Cemre

Cevap: C

Örnek Soru

A, B, C, D, E, F, G, H adlı öğretmenler toplantı için bir masa etrafına oturmuşlardır. Öğretmenlerin oturduğu koltuk numaraları ile ilgili şunlar bilinmektedir.

- A, 8 numaralı koltuğa oturmuştur.
- G ve H yan yanadır.
- D ve F arasında iki kişi vardır.
- 3 numaralı koltukta E oturmaktadır.
- H, 1 numaralı koltuğa oturmuştur.
- 3 ve 4 numaralı koltuğa oturanların isimleri alfabetik sırada art arda gelen harflerdir.

Bu bilgilere göre 5 ve 6. koltuğa oturanlar kimdir?

- A) C - G B) C - B C) B - F D) F - D



Sen Çöz 16

Örnek Soru

Öğretmen beş öğrenciyi birer kelime dağıtarak öğrencilere sıralama oyunu oynatmak istemektedir. Oyun sıra ile oynanacaktır. Birinci öğrenci oynadıktan sonra sıra ikinci öğrenciyeye geçer ve sıra ile devam eder. Öğrenciler sıra ilk kez kendilerine geldiğinde kelimelerinin ilk harfini, ikinci kez sıra kendine geldiğinde ise kelimesinin son harfini atarak bu sıra içerisinde oyuna devam eder.

	Öğrenciler	Kelimeler	
1.	Aylin	→	SORUMLULUK
2.	Buse	→	ELDİVEN
3.	Cem	→	PİYANO
4.	Kerim	→	GÖSTERİ
5.	Mustafa	→	BARIŞ

Verilen bilgilere göre dördüncü öğrenci, dördüncü kez oynadıktan hemen sonra kelimelerin son hâli sırasıyla aşağıdakilerden hangisinde doğru verilmiştir?

- A) R U M L → İ V E N → Y A N → S T E R → R I
- B) R U M L U L → D İ V → Y A → S T E → R
- C) U M L U → D İ V E → İ Y A → Ö S T E → İ Ş
- D) U M L U L → L D İ V → İ Y A N → Ö S T E → A R I

Biz Çözdük

Oyunda dört tur atıldıktan sonra sıralama;
"R U M L U L - D İ V - Y A - S T E - R" şeklinde olur.

Cevap: B

Örnek Soru

Ali, Baran, Ceyda, Duygu ve Eren aynı iş yerinde çalışan kişilerdir. Bu kişilerin işe giderken kullandıkları araçlarla ilgili şunlar bilinmektedir:

- Taksi, halk otobüsü, belediye otobüsü, dolmuş ve otomobil türündeki araçlardan her biri bir defa kullanılmaktadır.
- Ceyda, otomobil ile işe gitmektedir.
- Baran ve Eren otobüslerle işe gitmektedir.
- Ali ve Duygu farklı araç kullanmaktadır.

Bu bilgilere göre kaç kişinin hangi araçla işe gittiği kesin olarak bilinmemektedir?

- A) 1 B) 2 C) 3 D) 4

Sen Çöz 17

1.

Aylin, Eymen, Özlem, Pervin ve Özkan'ın en büyük isteği Dağcılık ve Tırmanış Okulundan mezun olup Klimanjara Dağı'na tırmanmaktır. Ne var ki dağcılık, bireysel bir spor gibi görünse de aslında bir takım sporudur. Çünkü tırmanış sırasında destek ekip görevini yapmazsa başarıya ulaşmak zordur. Takımdan birinin yapacağı bir yanlış olumsuz sonuçlara neden olabilir. Bu sebeple eğitim amaçlı uygulamalı ve teorik testler yapılmıştır. Sonuçlar şu şekildedir:

AYLİN	UYGULAMA: 8	TEORİK: 8
EYMEN	UYGULAMA: 4	TEORİK: 7
ÖZLEM	UYGULAMA: 7	TEORİK: 10
PERVİN	UYGULAMA: 10	TEORİK: 8
ÖZKAN	UYGULAMA: 5	TEORİK: 3

- ➡ Ekip bir erkek, bir kız dağcıdan oluşacaktır.
- ➡ Her kişi yalnızca bir ekipte yer alabilecektir.
- ➡ Uygulama ve teorik testlerden toplamda 15 ve üzeri alanlar ekip kurabilecektir.

Bilgilere göre aşağıdakilerden hangisi yanlıştır?

- A) Özkan, hiçbir ekipte yer alamaz.
- B) Aylin, yalnızca Özlem ile ekip kurabilir.
- C) Özlem, Eymen ile ekip kuramaz.
- D) Aynı anda iki ekip kurulamaz.

2.

Bir ana sınıfında meyve saati için bir sepet meyve bulunmaktadır. Elma, portakal ve armut bulunan sepette herkese birer adet olacak şekilde meyve vardır. Anıl, Buse, Şafak, Merve, Seçil, Berk ve Fikret'in hangi meyveleri seçtikleri ile ilgili şunlar bilinmektedir:

- ➡ Buse, Şafak ve Merve aynı meyveyi seçmiştir.
- ➡ Seçil ve Berk elma seçmiştir.
- ➡ Armut seçen iki kişiden biri Fikret'tir.
- ➡ Merve ve Seçil'in seçtiği meyveler birbirinden farklıdır.
- ➡ Sepette sadece iki tane armut vardır.

Bu bilgilere göre aşağıdakilerden hangisi kesinlikle meyve olarak armut seçmiştir?

- A) Buse
- B) Berk
- C) Merve
- D) Anıl

3.

Bir defilede Kıvanç, Kenan, Çağla, Tülin ve Azra adlı beş mankenin sunduğu yazlık, kışlık ve baharlık olmak üzere toplam 13 giysi ile ilgili izleyici beğenileri aşağıdaki çizelgede gösterilmiştir. Çizelgede boş bırakılan kutucuklar, giysi sunulmadığını göstermektedir.

	Yazlık	Kışlık	Baharlık
1. manken	Beğenildi	Beğenilmedi	Yorum yok
2. manken	Beğenilmedi	Beğenildi	Beğenildi
3. manken	Beğenildi	Beğenildi	Yorum yok
4. manken		Beğenildi	Beğenildi
5. manken	Beğenilmedi	Beğenilmedi	

- ➡ Kıvanç ve Azra'nın sunduğu baharlık giysilere yorum yapılmamıştır.
- ➡ Çağla ve Tülin'in yazlık kıyafetleri beğenilmemiştir.
- ➡ Kenan yazlık giysi sunmamıştır.
- ➡ Azra'nın sunduğu giysilerden beğenilmeyen yoktur.
- ➡ Çağla ve Tülin'in yazlık kıyafetleri beğenilmiştir.

Verilen bilgilerden hareketle beş numaralı manken aşağıdakilerden hangisi olabilir?

- A) Azra B) Çağla C) Kenan D) Kıvanç

4. Milli Eğitim Bakanlığı İstiklal Marşı Okuma Yarışması düzenlemiştir. Bu yarışmaya Burç, Coşkun, Çisem, Ela, Fırat, Hamdi ve Gizem katılmıştır. Yarışmada birinciye bilgisayar, ikinciye tablet, üçüncüye fotoğraf makinesi verilmiştir. İlk üçe giremeyen kişilere ise katılım belgesi verilmiştir. Yarışmaya katılan kişiler ve sıralamalarıyla ilgili şunlar bilinmektedir:

- Hamdi'nin sıralaması Ela'dan daha kötüdür ve ikisine de katılım belgesi verilmiştir.
- Aynı cinsten kişiler sıralamada arka arkaya gelmemiştir.
- Gizem, sıralamada Fırat'ın önünde, Coşkun'un hemen arkasındadır.
- Çisem tablet ödülü kazanmıştır.

Bu bilgilere göre aşağıdakilerden hangisi kesinlikle doğrudur?

- A) İlk üçte iki kız vardır.
 B) Burç bilgisayar ödülü kazanmıştır.
 C) Ela, yarışmayı 5. bitirmiştir.
 D) Fırat, yarışmada sonuncu olmuştur.

5 - 7. soruları aşağıdaki bilgilere göre cevaplayınız.

6 yarışmaya katılan Mahir, İrfan, İsmail, Deniz ve Uğur'un yarış sonuçları ile ilgili şunlar bilinmektedir:

- ➡ İrfan her zaman İsmail'den önce bitirmiştir.
- ➡ Mahir yarışmaları birinci veya sonuncu olarak bitirir.
- ➡ Uğur yarışmaları birinci veya sonuncu olarak bitirir.
- ➡ Yarışmaları berabere bitiren yoktur.
- ➡ Yarışmacılar yarışmalarının tamamını bitirir.

Yarışmalardan her birine;

- 5. bitirene 2,
- 4. bitirene 4,
- 3. bitirene 6,
- 2. bitirene 8,
- 1. bitirene 10 puan verilmiştir.

5. Uğur toplamda 36 puan aldığına göre aşağıdakilerden hangisi kesinlikle doğrudur?

- A) İsmail 36'dan fazla puan almıştır.
- B) Mahir 36 puan almıştır.
- C) Deniz 36'dan fazla puan almıştır.
- D) Deniz 36 puan almıştır.

6. İlk yarışta Uğur yarışı İsmail'den bir yarışmacı önde bitirirse aşağıdakilerden hangisi doğru olmaz?

- A) İsmail yarışı İrfan'dan sonra bitirir.
- B) İrfan yarışı Deniz'den hemen önce bitirir.
- C) İsmail, Mahir'den bir yarışmacı önde bitirir.
- D) Deniz yarışı 5. olarak bitirir.

7. Deniz yarışmayı 3. olarak bitirirse aşağıdakilerden hangisi kesinlikle doğru olur?


- A) Mahir yarışı 5. sırada bitirir.
- B) İsmail yarışı 2. sırada bitirir.
- C) İrfan yarışı 2. sırada bitirir.
- D) Uğur yarışı 1. sırada bitirir.

8.


Geçmişten günümüze iletişim, günden güne boyut atlamıştır. Öyle ki günümüzde dünyanın öbür ucundaki insanlara kolaylıkla ulaşabiliyoruz. Modern iletişim araçları ile haberleşme anlamında herhangi bir problemle karşılaşmıyoruz. Yazının bulunmasından önce insanlar; vürcalı çalgılar, mağara resimleri ve dumanla haberleşmiştir. Mektuplar, posta güvercini veya ulaklarla gönderilmiştir. 1800'lü yıllarda Graham Bell'in icadı ve Thomas Edison'un geliştirmesiyle ortaya çıkan telefon, iletişim için gerçekten de büyük bir adım olmuştur. Telefonun dışında ses kaydedebilecek yeni araçlar keşfedilmeye başlanmıştır. Radyo, televizyon, faks makinesi derken bilgisayar ve 1973'te ilk cep telefonunun icadıyla mesajlaşma yoluyla iletişim yaygınlaşmıştır.

Bu parçada aşağıdaki görselde belirtilen iletişim biçimlerinden hangisine yer verilmemiştir?

A)



B)




C)



D)



9.



Görselden yola çıkılarak bir yazı yazıldığında görsele en uygun başlık aşağıdakilerden hangisi olmalıdır?

- A) Kadının Toplumdaki Yeri
- B) Kadın ve Erkek Eşitliği
- C) Renklerin Aile Üzerindeki Etkisi
- D) Kadınlar ve Erkeklerin Farkları

10. Ömer, Esmâ, Buğra, Berna ve Arda koşu yarışına katılmışlardır. Bu kişilerden üçü 100 m'yi 20 saniyenin altında koşmuştur.

Yarışla ilgili şunlar bilinmektedir:

- Esmâ, yarışı 25 saniyede tamamlamıştır. Buğra yarışta ilk 3'e girmiştir.
- Berna yarışı 18 saniyede tamamlayarak 3. olmuştur.
- Arda yarışı 16 saniyede tamamlamıştır.


Bu bilgilere göre aşağıdakilerden hangisi kesinlikle doğrudur?

- A) Ömer ilk 3'e girememiştir.
- B) Esmâ yarışı 4. tamamlamıştır.
- C) Arda yarışta 2. olmuştur.
- D) Buğra yarışı 1. tamamlamıştır.

1 ve 2. soruları parçaya göre cevaplayınız.

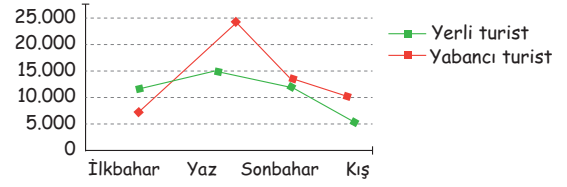
Adana Merkez Otogarında İstanbul, Ankara, Kayseri, Bursa ve Gaziantep'e gidecek otobüsler harekete hazırlanmaktadır. Otobüslerin hareket saatleriyle ilgili bazı bilgiler şunlardır:

- İlk olarak Kayseri'ye gidecek otobüs hareket edecektir.
- İstanbul otobüsünden sonra iki otobüs daha hareket edecektir.
- Gaziantep otobüsünden hemen sonra Bursa otobüsü hareket edecektir.
- Son kalkacak otobüs ne Ankara'ya ne Gaziantep'e gidecektir.
- Ankara otobüsünden önce Kayseri otobüsü hareket edecektir.



1. Otobüslerin hareket sırasıyla ilgili aşağıdakilerden hangisi yanlıştır?
 - A) Son hareket edecek otobüs Bursa'ya gidecektir.
 - B) Ankara otobüsünden sonra İstanbul otobüsü hareket edecektir.
 - C) Gaziantep otobüsünden önce iki otobüs hareket etmiştir.
 - D) Kayseri otobüsünden sonra dört otobüs daha hareket edecektir.
2. Otobüsler hareket sırasına göre aşağıdakilerin hangisinde doğru verilmiştir?
 - A) Kayseri-Ankara-İstanbul-Gaziantep-Bursa
 - B) Kayseri-İstanbul-Ankara-Bursa-Gaziantep
 - C) Kayseri-Ankara-Gaziantep-İstanbul-Bursa
 - D) Kayseri-İstanbul-Bursa-Ankara-Gaziantep

3. Aşağıdaki grafikte bir sene içinde Antalya'ya gelen yerli ve yabancı turistler gösterilmiştir.



Verilen grafikten hareketle aşağıdakilerden hangisi söylenemez?

- A) Yerli turistler Antalya'yı ilkbaharda yabancı turistlerden daha fazla ziyaret etmişlerdir.
- B) Yabancı turistlerin Antalya'ya en çok rağbet ettikleri mevsim yazdır.
- C) Kış mevsiminde Antalya'ya gelen yabancı ve yerli turistler arasında yarı yarıya fark vardır.
- D) Antalya'ya gelen yabancı turistlerin sayısı, her mevsim yerli turistten fazladır.

4.

Bir teknoloji mağazasında bilgisayar, televizyon, tablet ve cep telefonları indirimli satışa sunulmuştur. Bir ürün çeşidi en fazla iki kişi tarafından satın alınmıştır. Bir kişi de en fazla iki ürün satın alabilecektir. Bu ürünlerden satın almak isteyen Alihan, Buket, Defne, Eysel, Fuat, Gamze ve Hasan sabahın erken saatinde mağazaya gitmişlerdir. Aralarından bir kişi herhangi bir ürün almamıştır. Bu kişiler ve satış kurallarıyla ilgili şunlar bilinmektedir:

- Fuat ile bir kız cep telefonu almıştır.
- Bilgisayar satın alanlar tablet de almıştır.
- Buket; Defne'den farklı, Eysel ile aynı ürünü almıştır.
- Televizyon alanlardan biri erkektir.

Bu bilgilere göre aşağıdakilerden hangisi kesinlikle doğrudur?

- A) Defne televizyon almamıştır.
- B) Buket, tablet; Eysel, bilgisayar almıştır.
- C) Hasan televizyon almıştır.
- D) Gamze, cep telefonu almıştır.

5.

Uraz, Mira, Mert ve İlke; arkadaşlarının ağustos ayında açtıkları bir kafenin açılış gününe davetlidir.

Açılış gününde ikram edilecek tatlılar ile ilgili şunlar bilinmektedir:

- ➔ Kendilerine has, sütlü çikolata ile yaptıkları pastalar vardır.
- ➔ Yoğun çikolata tadı sevenler için üç çikolatalı ıslak kek vardır.
- ➔ Hafif tatlılardan denemek isteyenler için dondurma ve meyve tabağı vardır.
- ➔ Sütlü tatlı sevenler için keçi sütünden yapılan ve farklı bir lezzet içeren kazan-dibi vardır.

Açılış gününde ikram edilecek içecekler ile ilgili şunlar bilinmektedir:

- ➔ Orta sertlikte kahve sevenler için filtre kahve vardır.
- ➔ Geleneklerden vazgeçmeyenler için Türk kahvesi vardır.
- ➔ Yoğun kahve tadını sevenler için espresso vardır.
- ➔ Sıcak havada tercihini soğuk içecekten yana kullananlar için soğuk kahveler de vardır.

Açılışa davet edilenler ile ilgili şunlar bilinmektedir:

- ➔ Uraz, yoğun tatları sevmektedir.
- ➔ İlke, farklı tatlara kapalıdır ve gelenekseldir.
- ➔ Mert, yazın hafif ve soğuk şeyler tüketmeyi tercih etmektedir.
- ➔ Mira, sıcak ama yoğun olmayan içecek yanında pasta yemeyi sevmektedir.

Verilenlere göre, aşağıdakilerden hangisine ulaşılabilir?

- A) Uraz, espresso içmiş ve dondurma tabağı istemiştir.
- B) Mira filtre kahve içmiş ve sütlü çikolatalı pasta yemiştir.
- C) İlke sütlü tatlı yemiş ve espresso içmiştir.
- D) Mert üç çikolatalı ıslak kek yemiş ve soğuk kahve içmiştir.

6.

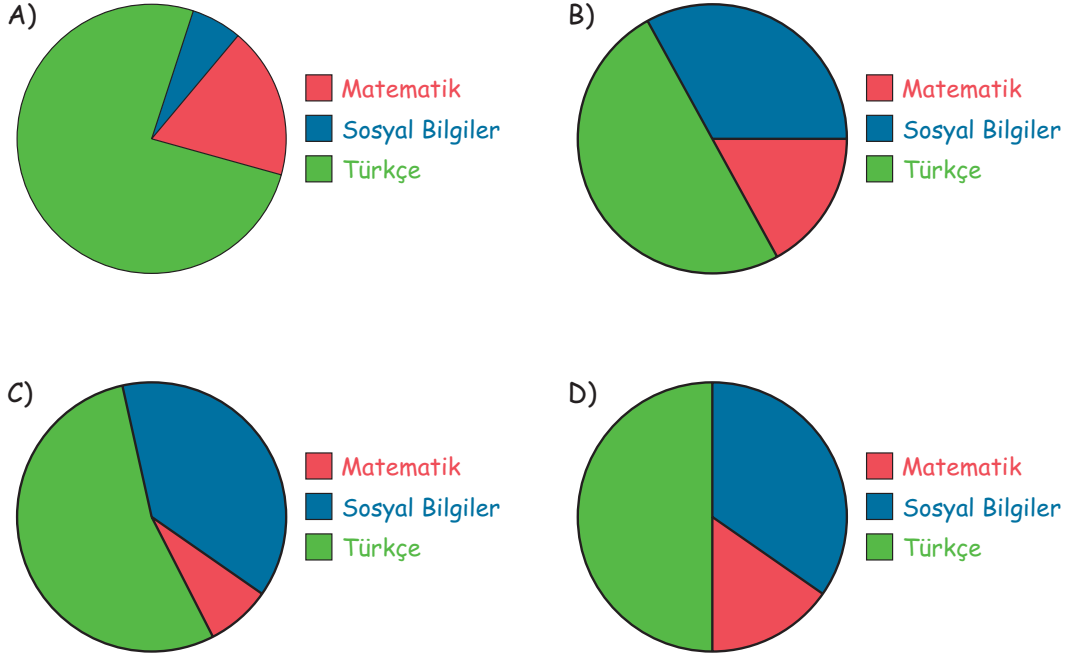
- Stephen Hawking, motor nöron hastalığını (ALS) yenerek çağının en saygın bilim insanlarından biri olmuştur.
- Bilimsel çalışmalarının yanı sıra bilimi, herkesin anlayacağı bir dille anlatırdı.

Bu iki cümlenin anlamca uygun biçimde birleştirilmiş hâli aşağıdakilerden hangisidir?

- A) Motor nöron hastalığını (ALS) yendiği için çağının en saygın bilim insanlarından biri olmayı başarmış olan Stephen Hawking, bilimsel çalışmalarının yanı sıra bilimi, herkesin anlayabileceği bir dille anlatırdı.
- B) Bilimi, bilimsel çalışmalarının yanı sıra herkesin anlayacağı bir dille anlatan Stephen Hawking; motor nöron hastalığını (ALS) yenerek saygın bir bilim insanı olmuştur.
- C) Bilimsel çalışmalarının yanı sıra bilimi herkesin anlayacağı bir dille anlatan Stephen Hawking, motor nöron hastalığını (ALS) yenerek çağının en saygın bilim insanlarından biri olmuştur.
- D) Motor nöron hastalığını (ALS) yenebilmek için verdiği mücadele ile saygın bir bilim insanı olmayı başaran Stephen Hawking, bilimsel çalışmalarını herkesin anlayabileceği bir dille insanlığa anlatırdı.

7. LGS'ye hazırlanan Yeliz, hafta sonu sosyal bilgilerden 42, matematikten 80, Türkçeden ise 122 soru çözmüştür.

Bu bilgileri göstermeye en yakın grafik aşağıdakilerden hangisidir?



8 - 10. soruları aşağıdaki bilgilere göre cevaplayınız.

Egemen'in 3'ü Türkçe, 2'si sosyal bilgiler kitabı olmak üzere toplam 5 kitabı mevcuttur.

- Bu kitaplardan dördü x yayınevine, biri ise y yayınevine aittir.
- Egemen elindeki kitaplardan ikisini çözmüş, üçünü ise çözmemiştir.

8. Kitapların x ve y yayınevine ait olma durumuyla ilgili aşağıdakilerden hangisi kesinlikle doğrudur?

- A) En çok iki Türkçe kitabı x yayınevine aittir.
- B) En az Türkçe kitabı x yayınevine aittir.
- C) Bütün sosyal bilgiler kitapları y yayınevine aittir.
- D) Y yayınevine ait kitap sosyal bilgiler kitabıdır.

9. Aşağıdakilerden hangisi kesinlikle doğrudur?

- A) Egemen y yayınevine ait kitapları çözmüştür.
- B) Çözülmemiş kitapların en çok ikisi x yayınevine aittir.
- C) Çözülmüş kitapların ikisi x yayınevine aittir.
- D) X yayınevine ait olan en az bir kitap çözülmüştür.

10. Kitapların çözümlenip çözülmemesi ve hangi türde oldukları ile ilgili aşağıdakilerden hangisi kesinlikle doğrudur?

- A) Çözülmemiş kitapların en az biri Türkçe kitabıdır.
- B) Türkçe kitaplarının ikisi çözülmüştür.
- C) Sosyal bilgiler kitaplarının hiçbiri çözülmemiştir.
- D) Çözülmüş kitapların en az biri Türkçe kitabıdır.

11.



Sen iyi ad dile Allah sana verdi kut. (yönetme hakkı, mutluluk)

Kutunu bulduğunda gönlünü iyi tut

Kimde akıl varsa o asil olur,

Kimde bilgi varsa o beylik bulur.

İsteyip almadın sen bu beylik gücünü

Allah verdi fazlasıyla bu belli.

Bu beyliği sana lütfederek verdi.

Bunun şükürünü kul ey geniş bilgili

Kutadgu Bilig'den (Mutluluk Veren Bilgi)
alınmış bu bölümde anlatılanlar, şemadaki hangi yön ve renklerle ilgilidir?

- A) Kara-kuzey/ Yeşil-doğu
- B) Ak-batı/ Al-güney
- C) Kara-kuzey/ Ak-batı
- D) Kızıl-güney/ Yeşil-doğu

12.

Bir dans okulunun seçmelerine katılan Bora, Aysel, Nazlı, Beliz, Burhan, Melis ve Deniz'in seçmeler sonunda aldıkları notlarla ilgili şunlar bilinmektedir:

- ➔ Aysel, en yüksek notu almıştır.
- ➔ Nazlı, en yüksekten en düşüğe yapılan sıralamada 4. olmuştur.
- ➔ Bora'nın notu Nazlı'nın notundan yüksek, Melis'in notundan düşüktür.
- ➔ Deniz, Beliz'den yüksek not almıştır.

Bu bilgilere göre aşağıdakilerden hangisi kesin olarak bilinemez?

- A) Kimin sonuncu olduğu
- B) En yüksek notu kimin aldığı
- C) 3. sırada kimin olduğu
- D) Melis'in kaçınıcı sırada olduğu

13.

Kullanım Kılavuzu:	Garanti Şartları:
<p>① Tabletiniz için hasarlı güç kabloları, fiş ya da prizleri kullanmayınız.</p> <p>② Tabletinizi sıvı maddelerden koruyunuz.</p> <p>③ Herhangi bir arıza baş gösterdiğinde kendiniz tamir etmeyiniz.</p> <p>④ Tabletinize güvenlik sertifikası içermeyen sitelerden yazılım yüklemeyiniz.</p>	<p>① Garanti süresi, ürünün teslim tarihinden başlar ve 2 yıldır.</p> <p>② Garanti hizmetinden yararlanmak için ürünün faturasının gösterilmesi gerekir.</p> <p>③ Ürünün garanti süresi içinde malzeme, işçilik ve montaj hatalarından kaynaklı arızaları ücret talep edilmeden giderilir.</p> <p>④ Kullanıcı hatalarından kaynaklı ve kullanım kılavuzuna aykırı kullanımdan doğan arızaların tamiri garanti kapsamı dışındadır.</p>

Yukarıda bir tabletin garanti şartları ve kullanım kılavuzu verilmiştir. 4 farklı müşteri, arıza yapan tabletin garanti kapsamında tamir edilmesini istemektedir. Bunun için ürünü aldıkları firmaya bir dilekçe ile arızayı ve arızanın giderilmesini istediklerini dilekçelerinde belirtmişlerdir.

Buna göre, aşağıdaki isteklerden hangisinin firmadan olumlu cevap alması beklenir?

- A) Bir buçuk yıl önce firmanızdan aldığım tabletin hoparlöründen ses gelmemektedir. Fatura ve ürünü size kargo ile gönderiyorum. Arızanın giderilmesini talep ediyorum.
- B) Firmanızdan bir yıl önce aldığım tableti, kullanım kılavuzuna uygun bir şekilde kullandığım hâlde ürünüm arızalandı. Ürünü onarmak için vidalarını söktüğümde bazı parçaların ezildiğini fark ettim. Ürünün tamir edilmesini istiyorum.
- C) Yirmi ay önce firmanızdan aldığım tabletin durup dururken şarj yeri bozuldu. Faturayı kaybettim ancak kimlik bilgilerimi size e-posta aracılığıyla gönderiyorum. Cihazın tamir edilmesini, edilemiyorsa yenisiyle değiştirilmesini talep ediyorum.
- D) Firmanızdan aldığım tabletin üzerine çay döküldü. Ürünün garantisi hâlâ devam ettiği için fatura-sıyla beraber kargolayıp tarafınıza gönderiyorum. Tamir edilmesini istiyorum.

CEVAP ANAHTARI

Sen Gz	1	2	3	4	5	6	7	8	9	10
	A	D	B	C	C	B	D	D	C	B
	11	12	13	14	15	16	17	18	19	20
	D	A	C	C	D	B	D			

TEST 1	1	2	3	4	5	6	7	8	9	10	11	12
	D	D	B	B	B	D	C	B	B	A		

TEST 2	1	2	3	4	5	6	7	8	9	10	11	12	13
	C	A	D	B	B	C	A	A	D	A	B	A	A

Etkinlikler

- 1, 3, 4, 6, 7, 10, 12
- a, b, d, e
1. Bahadır, 2. Deniz, 3. Erkan, 4. Alper, 5. Cemil, 6. Fuat

NOTLARIM

A series of horizontal dotted lines for writing notes.

